

**MINISTERUL EDUCAȚIEI
ȘI CERCETĂRII
AL REPUBLICII MOLDOVA**

**AGENȚIA NAȚIONALĂ
PENTRU CURRICULUM ȘI
EVALUARE**

Raionul

Localitatea

Instituția de învățământ

Numele, prenumele elevului

ISTORIA ROMÂNILOR ȘI UNIVERSALĂ

**PRETESTARE
CICLUL GIMNAZIAL**

06 aprilie 2023
Timp alocat: 120 de minute

Rechizite și materiale permise: *pix cu cerneală albastră.*

Instrucțiuni pentru candidat:



- Citește cu atenție fiecare item și efectuează operațiile solicitate.
- Lucrează independent.


Îți dorim mult succes!

Punctaj acumulat _____

SUBIECTUL I (12 puncte)

Studiază fiecare sursă în parte și realizează sarcina propusă.

Nr.	Item	Punctaj														
1	<p>Studiază afișul. Formulează o caracteristică pentru economia perioadei interbelice. Argumentează răspunsul.</p> <hr/> <hr/> <hr/> <hr/> <hr/> <hr/> <hr/> <hr/> <hr/> <hr/> <hr/> <hr/> 	L 0 1 2 3														
2	<p>Studiază imaginea. Determină o consecință a crizei economice din 1929-1933. Argumentează răspunsul.</p> <hr/> <hr/> <hr/> <hr/> <hr/> <hr/> <hr/> <hr/> <hr/> <hr/> <hr/> <hr/> 	L 0 1 2 3														
3	<p>Studiază tabelul. Compară dezvoltarea economică a României cu a altor țări în perioada interbelică. Argumentează răspunsul.</p> <hr/> <hr/> <hr/> <hr/> <hr/> <hr/> <hr/> <hr/> <div style="text-align: right;"> <p>Tabel: Venitul național pe cap de locuitor (dolari), 1938</p> <table border="1" data-bbox="877 1601 1284 1904"> <thead> <tr> <th>Țara</th> <th>Venitul național</th> </tr> </thead> <tbody> <tr> <td>Marea Britanie</td> <td>512</td> </tr> <tr> <td>Iugoslavia</td> <td>106</td> </tr> <tr> <td>România</td> <td>110</td> </tr> <tr> <td>Polonia</td> <td>94</td> </tr> <tr> <td>Bulgaria</td> <td>89</td> </tr> <tr> <td>Turcia</td> <td>62</td> </tr> </tbody> </table> </div>	Țara	Venitul național	Marea Britanie	512	Iugoslavia	106	România	110	Polonia	94	Bulgaria	89	Turcia	62	L 0 1 2 3
Țara	Venitul național															
Marea Britanie	512															
Iugoslavia	106															
România	110															
Polonia	94															
Bulgaria	89															
Turcia	62															

4	<p>Studiază moneda. Apreciază rolul personalității în istoria contemporană. Argumentează răspunsul.</p> <hr/> <hr/> <hr/> <hr/> <hr/> <hr/> <hr/> <hr/> <hr/> <hr/> <hr/> <hr/>	 <p>Inscripție: Ferdinand I al României. 100 ani de la încoronare.</p>	L 0 1 2 3
---	---	--	-----------------------

SUBIECTUL al II-lea (23 de puncte)

Studiază materialul suport și realizează sarcinile propuse.

SURSA A. REPERE CRONOLOGICE

<p>23 august 1939 - semnarea Pactului Molotov-Ribbentrop 1 septembrie 1939 – începutul celui de-al Doilea Război Mondial 26 și 28 iunie 1940 – notele ultimative ale guvernului sovietic adresate guvernului român</p>	<p>30 august 1940 – Dictatul de la Viena 7 septembrie 1940 – Tratatul de la Craiova septembrie 1940 – abdicarea regelui Carol II 2 august 1940 – formarea RSSM</p>
---	---

SURSA B.

„Guvernul URSS [...] propune:

1. În decurs de patru zile, începând cu orele 14.00 după ora Moscovei, la 28 iunie, să se evacueze teritoriul Basarabiei și Bucovinei de trupele românești.
2. Trupele sovietice în același timp să ocupe teritoriul Basarabiei și partea de nord a Bucovinei.
3. În decursul zilei de 28 iunie trupele sovietice să ocupe următoarele puncte: Cernăuți, Chișinău, Cetatea Albă.”

(Din Nota ultimativă a guvernului URSS adresată guvernului român, 28 iunie 1940)

SURSA C.

„În așa mod, în intervalul 28 iunie–7 septembrie 1940, pierderile teritoriale ale României au însumat 33,79% din teritoriu și 34,02% din populație. Prin actele de violență, factorii externi au intervenit brutal în procesul firesc de dezvoltare a României, întrerupându-l, impunând consecințe deosebit de grave: dezorganizarea economiei naționale, reducerea capacității de apărare și rezistență a țării.”

(Nicolae Enciu, Istoria românilor)

SURSA D.



Nr.	Item	Punctaj
Utilizează sursa A și cunoștințele obținute anterior.		
1	<p>Numește un eveniment istoric în cadrul căruia s-a discutat împărțirea sferelor de influență teritorială în Europa Răsăriteană.</p> <p>_____</p>	L 0 1
Utilizează sursele A, B și cunoștințele obținute anterior.		
2	<p>Identifică două teritorii anexate de URSS conform <i>notelor ultimative</i> din 1940.</p> <p>1. _____</p> <p>2. _____</p>	L 0 1 2
3	<p>Explică termenul <i>ultimatum</i>.</p> <p>_____</p> <p>_____</p> <p>_____</p>	L 0 1 2
Utilizează sursele A, B, C, D și cunoștințele obținute anterior.		
4	<p>Explică condițiile internaționale în care România a pierdut teritoriile:</p> <p>- <i>Basarabiei și nordului Bucovinei</i>: _____</p> <p>_____</p> <p>_____</p> <p>_____</p> <p>- <i>nordului Transilvaniei</i>: _____</p> <p>_____</p> <p>_____</p> <p>_____</p>	L 0 1 2 3 4
5	<p>Describe, conform modelului propus, două consecințe ale pierderilor teritoriale ale României din vara anului 1940.</p> <p>- <i>Consecință politică</i>: _____</p> <p>_____</p> <p>_____</p> <p>- <i>Consecință social-economică</i>: _____</p> <p>_____</p> <p>_____</p> <p>_____</p>	L 0 1 2 3 4
6	<p>Numește o personalitate istorică, care a condus statul român în timpul evenimentelor din 1940. Formulează două argumente.</p> <p>Personalitatea: _____</p> <p>1. _____</p> <p>_____</p> <p>_____</p>	L 0 1 2 3 4 5

	<u>2.</u> 	
7	Exprimă-ți opinia: De ce România a fost nevoită să cedeze o parte din teritoriile sale în anul 1940? Formulează două argumente. 	L 0 1 2 3 4 5

SUBIECTUL al III-lea (15 puncte)

Studiază sursele A-C.

SURSA A.

„1. Acorduri de pace încheiate deschis, după care nu vor mai fi acorduri internaționale private de orice natură ar fi acestea; dar diplomația va proceda întotdeauna deschis și în mod public. [...]

2. Garanții suficiente, date și adoptate, că armamentele naționale vor fi reduse la limita extremă compatibilă cu securitatea internă a țării. [...]

3. O societate generală a națiunilor trebuie să fie formată în virtutea convențiilor formale, având ca obiect să furnizeze garanții de independență politică și teritorială micilor ca și marilor state. [...]

(Extras din „14 puncte” ale președintelui SUA T.W.Wilson, 8 ianuarie 1918)

SURSA B.

„Art.88. Independența Austriei nu poate fi înstrăinată fără acordul Consiliului Societății Națiunilor. Drept urmare Austria se obligă [...] să se abțină de la orice act, capabil în mod direct sau indirect să încalce independența ei. [...].”

(Extras din *Tratatul de Pace cu Austria, Saint-Germain, 10 septembrie 1919*)

SURSA C.

„Art. 45. Ungaria renunță în favoarea României, la toate drepturile și titlurile asupra teritoriilor fostei monarhii austro-ungare situate dincolo de frontierele Ungariei așa cum sunt hotărâte în art.27, partea a II-a (frontierele Ungariei) și recunoscute prin prezentul Tratat sau prin orice alte Tratatate [...].”

(Extras din *Tratatul de Pace cu Ungaria, Trianon, 4 iunie 1920*)

Item	Punctaj
<p>Utilizează sursele pentru a argumenta, într-un text coerent, afirmația: <i>Conferința de Pace de la Paris (1919-1920) a stabilit o nouă ordine internațională.</i></p>	L
	0
	1
<p>Notă: Formulează cel puțin trei argumente.</p>	2
	L
	0
	1
	2
	3
	L
	0
	1
	2
	3
	4
	5
	6
	7
	L
	0
	1
	2
	L
	0
	1