

**MINISTERUL EDUCAȚIEI
ȘI CERCETĂRII
AL REPUBLICII MOLDOVA**

**AGENȚIA NAȚIONALĂ
PENTRU CURRICULUM ȘI
EVALUARE**

Район/ Муниципий

Место жительства

Учебное заведение

Фамилия, имя ученика

ИСТОРИЯ РУМЫН И ВСЕОБЩАЯ ИСТОРИЯ

**ПРЕДВАРИТЕЛЬНОЕ ТЕСТИРОВАНИЕ
ГИМНАЗИЧЕСКИЙ ЦИКЛ**

06 апреля 2023 года

Время выполнения: 120 минут.

Необходимые материалы: *ручка с пастой синего цвета.*

Памятка для кандидата:



- Прочитай внимательно и аккуратно выполни каждое задание.
- Работай самостоятельно.


Желаем успехов!

Количество баллов _____

ТЕМА I (12 баллов)

Изучи каждый источник в отдельности и выполни предложенные задания.

№	Задание	Баллы														
1	<p>Изучи плакат. Сформулируй характеристику экономики межвоенного периода. Аргументируй ответ.</p> <hr/> <hr/> <hr/> <hr/> <hr/> <hr/> <hr/> <hr/> <hr/> <hr/> <hr/>	<p>L 0 1 2 3</p>														
																
2	<p>Изучи изображение. Определи одно последствие экономического кризиса 1929-1933 гг. Аргументируй ответ.</p> <hr/> <hr/> <hr/> <hr/> <hr/> <hr/> <hr/> <hr/> <hr/> <hr/> <hr/>	<p>L 0 1 2 3</p>														
																
3	<p>Изучи таблицу. Сравни экономическое развитие Румынии с другими странами в межвоенный период. Аргументируй ответ.</p> <hr/> <hr/> <hr/> <hr/> <hr/> <hr/> <hr/> <hr/> <hr/> <hr/> <hr/>	<p>L 0 1 2 3</p>														
	<p>Таблица: Национальный доход на душу населения, 1938 г. (доллары)</p> <table border="1" style="margin-left: auto; margin-right: auto;"> <thead> <tr> <th style="text-align: center;">Страна</th> <th style="text-align: center;">Национальный доход</th> </tr> </thead> <tbody> <tr> <td style="text-align: center;">Великобритания</td> <td style="text-align: center;">512</td> </tr> <tr> <td style="text-align: center;">Югославия</td> <td style="text-align: center;">106</td> </tr> <tr> <td style="text-align: center;">Румыния</td> <td style="text-align: center;">110</td> </tr> <tr> <td style="text-align: center;">Польша</td> <td style="text-align: center;">94</td> </tr> <tr> <td style="text-align: center;">Болгария</td> <td style="text-align: center;">89</td> </tr> <tr> <td style="text-align: center;">Турция</td> <td style="text-align: center;">62</td> </tr> </tbody> </table>	Страна	Национальный доход	Великобритания	512	Югославия	106	Румыния	110	Польша	94	Болгария	89	Турция	62	
Страна	Национальный доход															
Великобритания	512															
Югославия	106															
Румыния	110															
Польша	94															
Болгария	89															
Турция	62															

4	Изучи монету. Оцени роль данной личности в истории. Аргументируй ответ. <hr/> <hr/> <hr/> <hr/> <hr/> <hr/> <hr/> <hr/> <hr/> <hr/>	 Надпись: Фердинанд I Румынии. 100 лет со дня коронации	L 0 1 2 3
---	--	---	-----------------------

ТЕМА II (23 балла)

Изучи опорный материал и выполни предложенные задания.

ИСТОЧНИК А. ХРОНОЛОГИЯ

23 августа 1939 г. - подписание пакта Молотова-Риббентропа 1 сентября 1939 г. – начало Второй Мировой Войны 26 и 28 июня 1940 г. – ультимативные ноты правительства СССР правительству Румынии	30 августа 1940 г. – Венский диктат 7 сентября 1940 г. – соглашение в Крайове сентябрь 1940 г. – отречение короля Карла II 2 августа 1940 г. – создание МССР
---	---

ИСТОЧНИК Б.

«Правительство СССР [...] предлагает:

1. В течение 4 дней, начиная с 2 часов дня по московскому времени 28 июня, очистить румынским войскам территорию Бессарабии и северной части Буковины.
2. Советским войскам за этот же период занять территорию Бессарабии и северной части Буковины.
3. В течении 28 июня советским войскам занять Черновицы, Кишинёв, Аккерман».

(Из Ультимативной ноты правительства СССР правительству Румынии, 28 июня 1940 г.)

ИСТОЧНИК В.

«Таким образом, в период с 28 июня по 7 сентября 1940 г. территориальные потери Румынии составили 33,79% территории и 34,02% населения. Путём насилия внешние факторы грубо вмешались в естественный процесс развития Румынии, прервав его, наложив особо тяжелые последствия: дезорганизация народного хозяйства, снижение обороноспособности и сопротивляемости страны».

(Николай Енчу, История румын)

ИСТОЧНИК Г.



№	Задание	Баллы
Используй источник А и предшествующие знания.		
1	Назови историческое событие, в ходе которого обсуждалось разделение сфер территориального влияния в Восточной Европе. _____	L 0 1
Используй источник А, Б и предшествующие знания.		
2	Выведи две территории аннексированные СССР согласно <i>ультимативных нот</i> 1940 г. 1. _____ 2. _____	L 0 1 2
Используй источники А, Б и предшествующие знания.		
3	Объясни понятие <i>ультиматум</i> . _____ _____ _____	L 0 1 2
Используй источники А, Б, В, Г и предшествующие знания.		
4	Объясни международные условия, в которых Румыния потеряла территории: - <i>Бессарабии и северной Буковины</i> : _____ _____ _____ - <i>северной Трансильвании</i> : _____ _____ _____	L 0 1 2 3 4
5	Опиши, согласно предложенной модели, два последствия территориальных утрат Румынии летом 1940 г. - <i>Политическое последствие</i> : _____ _____ _____ - <i>Социально-экономическое последствие</i> : _____ _____ _____	L 0 1 2 3 4
6	Назови историческую личность, возглавлявшую румынское государство во время события 1940 года. Сформулируй два аргумента. Личность: _____ <i>1</i> : _____ _____ _____	L 0 1 2 3 4 5

	2: _____ _____ _____	
7	<p>Выскажи свое мнение: Почему Румыния была вынуждена уступить часть своих территории в 1940 году? Сформулируй два аргумента.</p> <p>_____</p> <p>_____</p> <p>_____</p> <p>_____</p> <p>_____</p> <p>_____</p> <p>_____</p> <p>_____</p> <p>_____</p> <p>_____</p>	L 0 1 2 3 4 5

ТЕМА III (15 баллов)

Изучи источники А-В

ИСТОЧНИК А.

«1. Открыто заключённые мирные договоры, после которых не будет больше частных международных договоров, какого бы характера они ни были; но дипломатия всегда будет действовать открыто и публично. [...]

2. Достаточные гарантии, данные и принятые, что национальные вооружения будут сокращены до предела, совместимого с внутренней безопасностью страны. [...]

3. Всеобщее общество наций должно образоваться на основании формальных конвенций, цель которых — предоставить гарантии политической и территориальной независимости как малым, так и большим государствам. [...]"

(Из 14 пунктов президента США Т.В.Вильсона, 8 января 1918 г.)

ИСТОЧНИК Б.

«Статья 88. Независимость Австрии не может быть отчуждена без согласия Совета Лиги Наций. В результате Австрия обязуется [...] воздерживаться от любых действий, которые прямо или косвенно могут нанести ущерб ее независимости. [...]"».

(Из мирного договора с Австрией, Сен-Жермен, 10 сентября 1919 г.)

ИСТОЧНИК В.

«Статья 45. Венгрия отказывается в пользу Румынии от всех прав и титулов на территории бывшей Австро-Венгерской монархии, расположенные за пределами Венгрии, как они определены в статье 27, часть II (границы Венгрии) и признаны настоящим Договором или любыми другими Договорами [...]"».

(Из мирного договора с Венгрией, Трианон, 4 июня 1920 г.)

Задание	Баллы
<p>Используй источники для аргументации, в связном тексте, следующего утверждения: <i>Парижская мирная конференция (1919-1920 гг.) установила новый международный порядок.</i></p>	
<p>Примечание: Сформулируй, по меньшей мере, три аргумента.</p>	
_____	L
_____	0
_____	1
_____	2
_____	L
_____	0
_____	1
_____	2
_____	3
_____	L
_____	0
_____	1
_____	2
_____	3
_____	4
_____	5
_____	6
_____	7
_____	L
_____	0
_____	1
_____	2
_____	L
_____	0
_____	1

