

ОЛИМПИАДА ПО ГЕОГРАФИИ
Районный/муниципальный тур, 08 февраля 2025

XI-й класс

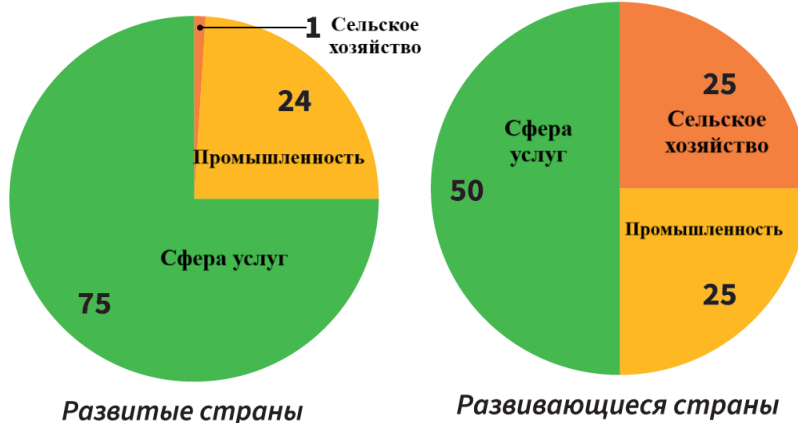
Время работы: 180 минут

Желаем успехов!

Примечание: Применение географических атласов не допускается.

| № | Задания | Баллы | |
|----|--|---|---|
| 1. | <p>Прочтите содержание предложенных заданий и обведите букву, соответствующую правильному варианту ответа (<i>правильный ответ может быть только один</i>):</p> <p>1. Одно из пяти государств с социалистической системой, существующих сегодня на политической карте мира, это: а) Лесото; б) Лаос; в) Либерия; г) Болгария.</p> <p>2. Гелиотермическая электростанция это: а) Аннаполис Роял; б) Ла Ранс; в) Матансас; г) Одейо.</p> <p>3. Город Балтимор входит в мегалополис: а) Чиппитс; б) Босваш; в) Сан-Сан; г) Мидлендс.</p> <p>4. «Фавелы» — это бедные кварталы, характерные для городов, расположенных в: а) Аргентине; б) Бразилии; в) Мексике; г) Испании.</p> <p>5. Самые большие запасы битуминозных сланцев находятся в государстве: а) Афганистан; б) Южная Африка; в) Ангола; г) США.</p> <p>6. Государством-членом ОПЕК является: а) Нигерия; б) Филиппины; в) Бруней; г) Мексика.</p> <p>7. Зависимая островная территория, управляемая Нидерландами, это: а) Ангилья; б) Аруба; в) Майотта; г) Монтсеррат.</p> <p>8. Государство с самым большим производством стали, это: а) Индия; б) Китай; в) Япония; г) Россия.</p> <p>9. Если численность населения в городе X составляет 44 000 человек, а количество умерших за год — 350 человек, то коэффициент смертности составит примерно: а) 7,9 ‰; б) 5,7 ‰; в) 6,0 ‰; г) 4,5 ‰.</p> <p>10. Деревня типа «кишлак» с глиняными домами, расположенными вдоль узких улиц, встречается в государстве: а) Армения; б) Йемен; в) Узбекистан; г) Турция.</p> | L 0 1 2 3 4 5 6 7 8 9 10 | L 0 1 2 3 4 5 6 7 8 9 10 |
| 2. | <p>Прочитайте приведенные ниже утверждения. Если утверждение верное, обведите букву «В», а если утверждение неверное, обведите букву «Н».</p> <p>2.1. В Н Первая приливная электростанция мощностью 240 МВт была введена в эксплуатацию в 1966 году в Нидерландах, в эстуарии реки Ранс.</p> <p>2.2. В Н Бокситы относятся к категории каустобиолитовых пород.</p> <p>2.3. В Н В исламских государствах в половозрастной структуре населения доля женщин меньше, чем доля мужчин.</p> | L 0 1 2 3 | L 0 1 2 3 |
| 3. | <p>Прочитайте приведенные ниже утверждения. Если считаете, что утверждение верное, обведите букву «В». Если считаете, что утверждение неверное, обведите букву «Н» и напишите на указанных линиях вместо подчеркнутых слов другие слова, делающие утверждение верным.</p> <p>3.1. В Н Шаманизм — это <u>этническая</u> религия. _____</p> <p>3.2. В Н Обрабатывающая промышленность и строительство относятся ко <u>вторичному</u> сектору экономики. _____</p> | L 0 1 2 3 4 | L 0 1 2 3 4 |

4. Диаграммы представляют отраслевую структуру экономики развитых и развивающихся стран в 2023 году, в % от общего объема. Проанализируйте диаграммы и выполните следующие задания.



4.1. Сравните отраслевую структуру экономики между развитыми и развивающимися странами и выявите два различия в долях отраслей экономики:

a) _____

b) _____

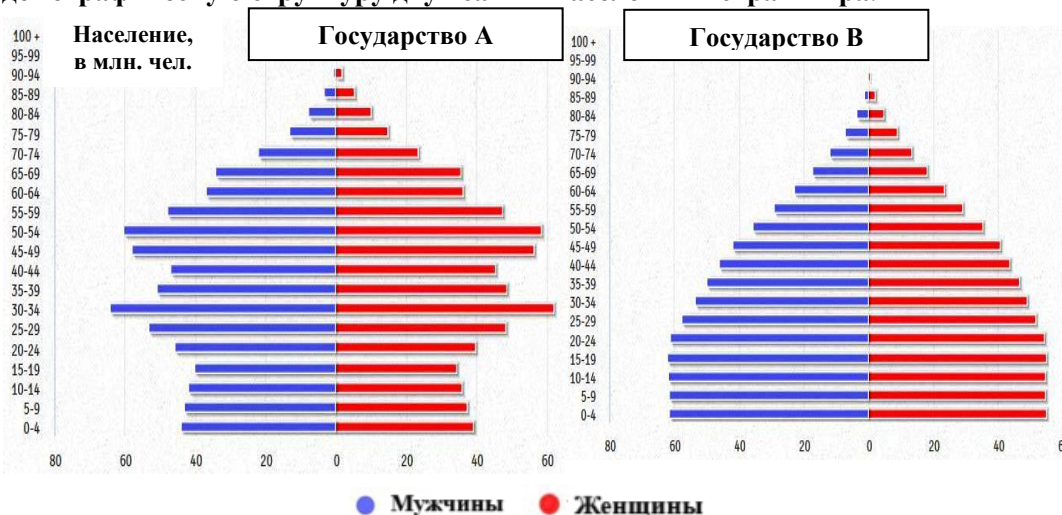
4.2. Выявите преимущество экономики, основанной главным образом на сфере услуг, по сравнению с экономикой, основанной на сельском хозяйстве: _____

4.3. Предложите две меры для снижения доли сельского хозяйства в развивающихся странах и увеличения значения сектора услуг:

a) _____

b) _____

5. Пирамиды возрастных групп населения в 2020 году отражают демографическую структуру двух самых населенных стран мира.



Проанализируйте пирамиды и выполните следующие задания:

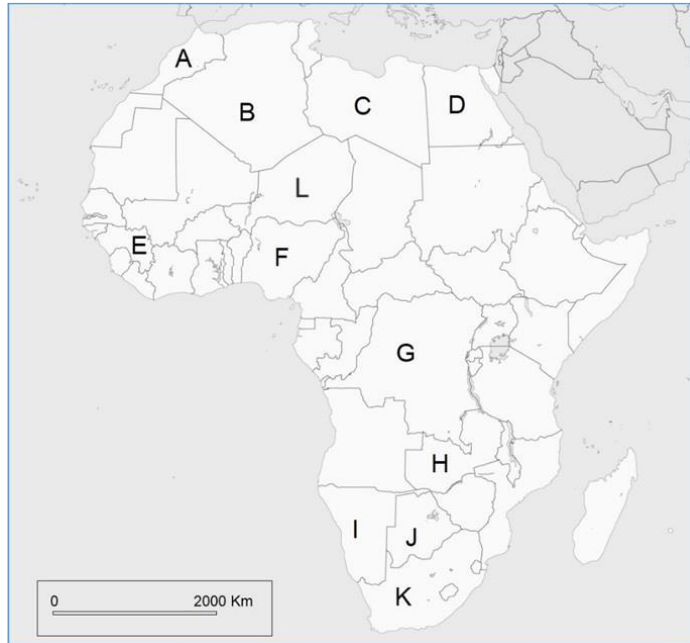
5.1. Напишите название государств, к которым относятся пирамиды:

Государство А _____; Государство В _____

5.2. В 2023 году иерархия двух ведущих стран мира по численности населения меняется. Выведите две причины, указывающие это изменение, исходя из структуры половозрастных пирамид в 2020 году:

| | <p>a) _____ _____ _____</p> <p>b) _____ _____ _____.</p> <p>5.3. В одном из этих двух государств в период с 1978 по 2015 год проводилась демографическая политика «Одна семья – один ребенок». Объясните: a) причину, обусловившую проведение такой демографической политики: _____ _____</p> <p>b) одно из последствий, повлекших отказ от проведения этой демографической политики после 2015 года: _____ _____ _____</p> <p>5.4. Выявите два фактора, определяющих более высокую среднюю продолжительность жизни у населения государства A по сравнению с населением государства B: a) _____ _____ b) _____ _____</p> <p>5.5. Укажите: a) два официальных языка/диалекта государства B: _____; _____</p> <p>b) название населения с сепаратистскими тенденциями на юго-востоке государства B: _____</p> <p>c) специфическая/доминирующая религия в государстве B: _____</p> <p>d) причину, объясняющую разницу в средней плотности населения между восточной и западной частями государства A: _____ _____ _____</p> <p>e) название островного государства, расположенного в 160 километрах к юго-востоку, с которым государство A находится в конфликте, несмотря на общие корни и принадлежность к одному народу: _____ и одна из причин напряженности между этими двумя государствами: _____ _____ _____</p> | 21 22 23 | 21 22 23 | | | | | | | | | | | | | | | | | | |
|--------------------|---|------------------|------------------|-------------------|-----------|-----------------|---------------------|-----------------|---------------|--------------------|--------------|-----------------|-----------------|--|---------------|--|------------|--|-------------------------------|--|--|
| 6. | <p>В столбике А указаны некоторые государства, а в столбике Б – несколько железорудных месторождений/бассейнов. Напишите перед буквами в столбике А, соответствующие им цифры из столбика Б (<i>один ответ лишний</i>).</p> <table style="width: 100%; border: none;"> <thead> <tr> <th style="text-align: left; width: 50%;">Столбик А</th> <th style="text-align: left; width: 50%;">Столбик Б</th> </tr> </thead> <tbody> <tr> <td>_____ А. Бразилия</td> <td>1. Ангара</td> </tr> <tr> <td>_____ В. Канада</td> <td>2. Сьерра до Карахо</td> </tr> <tr> <td>_____ С. Швеция</td> <td>3. Шеффервилл</td> </tr> <tr> <td>_____ Д. Австралия</td> <td>4. Флин-Флон</td> </tr> <tr> <td>_____ Е. Россия</td> <td>5. Минас Жерайс</td> </tr> <tr> <td></td> <td>6. Кирунавара</td> </tr> <tr> <td></td> <td>7. Пилбара</td> </tr> <tr> <td></td> <td>8. Курская магнитная аномалия</td> </tr> </tbody> </table> | Столбик А | Столбик Б | _____ А. Бразилия | 1. Ангара | _____ В. Канада | 2. Сьерра до Карахо | _____ С. Швеция | 3. Шеффервилл | _____ Д. Австралия | 4. Флин-Флон | _____ Е. Россия | 5. Минас Жерайс | | 6. Кирунавара | | 7. Пилбара | | 8. Курская магнитная аномалия | L 0 1 2 3 4 5 6 7 8 | L 0 1 2 3 4 5 6 7 8 |
| Столбик А | Столбик Б | | | | | | | | | | | | | | | | | | | | |
| _____ А. Бразилия | 1. Ангара | | | | | | | | | | | | | | | | | | | | |
| _____ В. Канада | 2. Сьерра до Карахо | | | | | | | | | | | | | | | | | | | | |
| _____ С. Швеция | 3. Шеффервилл | | | | | | | | | | | | | | | | | | | | |
| _____ Д. Австралия | 4. Флин-Флон | | | | | | | | | | | | | | | | | | | | |
| _____ Е. Россия | 5. Минас Жерайс | | | | | | | | | | | | | | | | | | | | |
| | 6. Кирунавара | | | | | | | | | | | | | | | | | | | | |
| | 7. Пилбара | | | | | | | | | | | | | | | | | | | | |
| | 8. Курская магнитная аномалия | | | | | | | | | | | | | | | | | | | | |

7. Проанализируйте представленную карту и выполните задания:



L
0
1
2
3
4
5
6
7
8
9
10

L
0
1
2
3
4
5
6
7
8
9
10

7.1. Укажите названия государств Африки, обозначенных буквами на карте, которые выделяются значительными литосферными ресурсами:

а) Страна, обладающая крупнейшими запасами кобальта: _____

б) Страна с наибольшим производством бокситов: _____

7.2. а) Укажите названия трех официальных столиц государства, обозначенного на карте буквой **К**: _____; _____; _____

б) Укажите название традиционного кочевого народа в государстве, обозначенном на карте буквой **Г**: _____

7.3. Выявите одну причину, которая определяет:

а) более низкую среднюю плотность населения в государстве, обозначенном на карте буквой **И**, по сравнению с государством, обозначенным буквой **Ф**:

б) более высокий уровень экономического развития государства, обозначенного на карте буквой **К**, по сравнению с другими африканскими странами: _____

8. В таблице отражено производство электроэнергии на основе первичных источников энергии в некоторых странах G20 в 2023 году.

| Страна | Первичные источники энергии, в % | | | |
|----------|----------------------------------|---------------|-------------|------------------|
| | Ветровая и солнечная | Гидро-энергия | Био-энергия | Невозобновляемые |
| Бразилия | 21 | 60 | 8 | 11 |
| Китай | 16 | 13 | 2 | 69 |
| Россия | 0 | 17 | 0 | 83 |
| Германия | 39 | 4 | 9 | 48 |
| Франция | 14 | 10 | 2 | 74 |

8.1. Выявите причину, определяющую лидерство Бразилии в производстве электроэнергии на основе возобновляемых источников энергии: _____

L
0
1
2
3
4
5
6
7
8

L
0
1
2
3
4
5
6
7
8

| | <p>8.2. Объясните причину, которая обуславливает Китай основывать свою энергетику на невозобновляемых источниках энергии: _____</p> <p>_____</p> <p>_____</p> <p>8.3. Аргументируйте отсутствие инвестиций в эксплуатацию возобновляемых источников энергии в России: _____</p> <p>_____</p> <p>_____</p> | | | | | | | | | | | | | | | | | | | | | | | | |
|---|--|---|---|---|--|---|--|--|--|--|--|--|--|--|--|---|--|--|--|--|--|---|--|--|--|
| <p>9.</p> | <p>Миграция населения классифицирована по различным критериям. В схеме представлена классификация миграции по трём критериям. Укажите в ячейках схемы критерии и типы миграции.</p> <pre> graph TD A([МИГРАЦИЯ НАСЕЛЕНИЯ]) --> B[По продолжительности] A --> C[] A --> D[По причинам / мотивам] B --> B1[] B --> B2[] B --> B3[] C --> C1[Принудительные] C --> C2[] D --> D1[] D --> D2[] D --> D3[Репатриация] </pre> | <p>L</p> <p>0</p> <p>1</p> <p>2</p> <p>3</p> <p>4</p> <p>5</p> <p>6</p> <p>7</p> <p>8</p> | <p>L</p> <p>0</p> <p>1</p> <p>2</p> <p>3</p> <p>4</p> <p>5</p> <p>6</p> <p>7</p> <p>8</p> | | | | | | | | | | | | | | | | | | | | | | |
| <p>10.</p> | <p>Установите название географических объектов, согласно изложенным характеристикам, и заполните таблицу. Обозначьте на контурной карте (приложение в конце теста) географические объекты в соответствии с порядковым номером из таблицы.</p> <table border="1" data-bbox="240 1211 1321 2027"> <thead> <tr> <th data-bbox="240 1211 1050 1317">Характеристики географического объекта</th> <th data-bbox="1050 1211 1321 1317">Название географического объекта</th> </tr> </thead> <tbody> <tr> <td data-bbox="240 1317 1050 1391">1. Название государства, его столицы и острова, что в переводе означает «Город Льва».</td> <td data-bbox="1050 1317 1321 1391"></td> </tr> <tr> <td data-bbox="240 1391 1050 1464">2. Государство, называемое «Жажущая земля», со средней плотностью населения около 1 человека на км².</td> <td data-bbox="1050 1391 1321 1464"></td> </tr> <tr> <td data-bbox="240 1464 1050 1538">3. Самое маленькое островное государство в мире.</td> <td data-bbox="1050 1464 1321 1538"></td> </tr> <tr> <td data-bbox="240 1538 1050 1612">4. Государство, которое в 1994 году превратилось в «ад тысячи холмов» из-за последнего геноцида XX века.</td> <td data-bbox="1050 1538 1321 1612"></td> </tr> <tr> <td data-bbox="240 1612 1050 1686">5. Этому государству характерны современные сельские поселения типа «кибуц».</td> <td data-bbox="1050 1612 1321 1686"></td> </tr> <tr> <td data-bbox="240 1686 1050 1760">6. Польский город, называемый «столицей янтаря».</td> <td data-bbox="1050 1686 1321 1760"></td> </tr> <tr> <td data-bbox="240 1760 1050 1834">7. Самая древняя конституционная республика в мире.</td> <td data-bbox="1050 1760 1321 1834"></td> </tr> <tr> <td data-bbox="240 1834 1050 1908">8. Государство с наименьшим числом жителей в мире.</td> <td data-bbox="1050 1834 1321 1908"></td> </tr> <tr> <td data-bbox="240 1908 1050 1982">9. Единственная столица в мире, расположенная на экваторе.</td> <td data-bbox="1050 1908 1321 1982"></td> </tr> <tr> <td data-bbox="240 1982 1050 2027">10. Государство, построившее крупнейшую в мире плавучую солнечную электростанцию.</td> <td data-bbox="1050 1982 1321 2027"></td> </tr> </tbody> </table> | Характеристики географического объекта | Название географического объекта | 1. Название государства, его столицы и острова, что в переводе означает «Город Льва». | | 2. Государство, называемое «Жажущая земля», со средней плотностью населения около 1 человека на км ² . | | 3. Самое маленькое островное государство в мире. | | 4. Государство, которое в 1994 году превратилось в «ад тысячи холмов» из-за последнего геноцида XX века. | | 5. Этому государству характерны современные сельские поселения типа «кибуц». | | 6. Польский город, называемый «столицей янтаря». | | 7. Самая древняя конституционная республика в мире. | | 8. Государство с наименьшим числом жителей в мире. | | 9. Единственная столица в мире, расположенная на экваторе. | | 10. Государство, построившее крупнейшую в мире плавучую солнечную электростанцию. | | <p>L</p> <p>0</p> <p>1</p> <p>2</p> <p>3</p> <p>4</p> <p>5</p> <p>6</p> <p>7</p> <p>8</p> <p>9</p> <p>10</p> <p>11</p> <p>12</p> <p>13</p> <p>14</p> <p>15</p> <p>16</p> <p>17</p> <p>18</p> <p>19</p> <p>20</p> | <p>L</p> <p>0</p> <p>1</p> <p>2</p> <p>3</p> <p>4</p> <p>5</p> <p>6</p> <p>7</p> <p>8</p> <p>9</p> <p>10</p> <p>11</p> <p>12</p> <p>13</p> <p>14</p> <p>15</p> <p>16</p> <p>17</p> <p>18</p> <p>19</p> <p>20</p> |
| Характеристики географического объекта | Название географического объекта | | | | | | | | | | | | | | | | | | | | | | | | |
| 1. Название государства, его столицы и острова, что в переводе означает «Город Льва». | | | | | | | | | | | | | | | | | | | | | | | | | |
| 2. Государство, называемое «Жажущая земля», со средней плотностью населения около 1 человека на км ² . | | | | | | | | | | | | | | | | | | | | | | | | | |
| 3. Самое маленькое островное государство в мире. | | | | | | | | | | | | | | | | | | | | | | | | | |
| 4. Государство, которое в 1994 году превратилось в «ад тысячи холмов» из-за последнего геноцида XX века. | | | | | | | | | | | | | | | | | | | | | | | | | |
| 5. Этому государству характерны современные сельские поселения типа «кибуц». | | | | | | | | | | | | | | | | | | | | | | | | | |
| 6. Польский город, называемый «столицей янтаря». | | | | | | | | | | | | | | | | | | | | | | | | | |
| 7. Самая древняя конституционная республика в мире. | | | | | | | | | | | | | | | | | | | | | | | | | |
| 8. Государство с наименьшим числом жителей в мире. | | | | | | | | | | | | | | | | | | | | | | | | | |
| 9. Единственная столица в мире, расположенная на экваторе. | | | | | | | | | | | | | | | | | | | | | | | | | |
| 10. Государство, построившее крупнейшую в мире плавучую солнечную электростанцию. | | | | | | | | | | | | | | | | | | | | | | | | | |
| | <p>Всего: 100 баллов</p> | | | | | | | | | | | | | | | | | | | | | | | | |

Примечание: все географические объекты, отмеченные на контурной карте, должны соответствовать цифрам из таблицы теста (задание 10).

